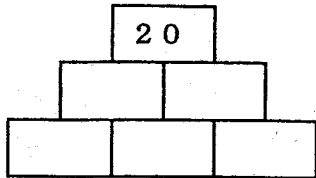



1 問1 倍

問2

2 問1



問2



合計

3 問1 秒

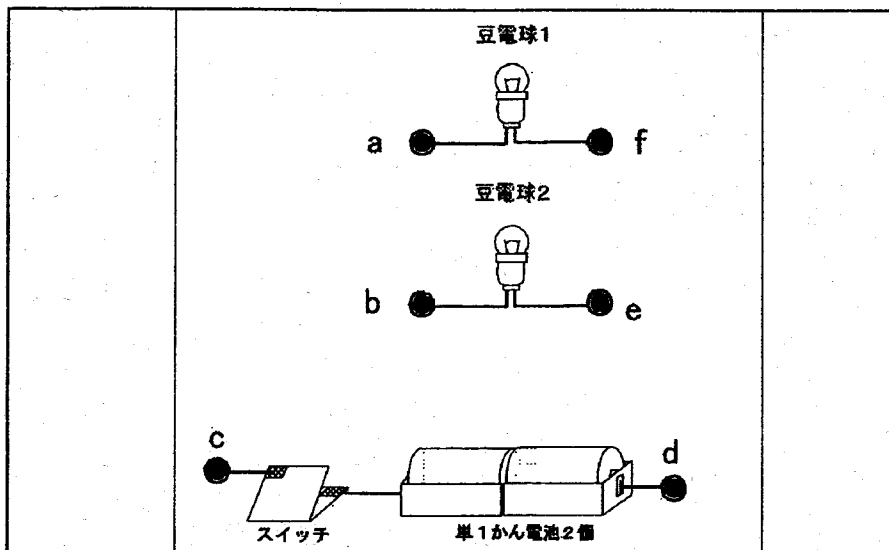
問2 秒

4 問1 を使う

説明

問2 通り

問3



5 問1 理由

問2 理由

6 問1 65歳以上 % 15~64歳 %

違い

問2 鴨川市の立場

オーナーの立場

7 問1

問2 問3 m

問4

受検 番号		氏名		得点	
----------	--	----	--	----	--

平成 23 年度 千葉市立稲毛高等学校附属中学校 適性検査 I 問題 解答例

※解答例はあくまでも一つの例であり、それ以外の解答でも正解となる場合があります。

1	問 1	10 倍 A を 100 とすると B は 50、というふうに考えると D は 10 となる。		
	問 2	(BCD) (BDD) (CCC) (CCD) (CDD) (DDD) の 6 通り考えられる。		
2	問 1		問 2	
	問 2	合計 20		
3	問 1	$11\frac{1}{2}$ 秒 $1/2+1+4$		
	問 2	$43\frac{1}{6}$ 秒 $1/2+2/3+2+4$		
4	問 1	コードを用いる。 説明文 コードをどこか 2 点つなげる。スイッチを入れて、豆電球がついたら、コードが二重になっただけなので、もともとつながっていたことになる。豆電球の明るさが変化すれば、回路が変わったので、つながっていなかったことになる。		
	問 2	12 通り $6 \times 5 \div 2 - 3$		
4	問 3		というふうに直列つなぎになっていけばよい。	
5	問 1	セイウタンポポの方が、花の数が多い。また、綿毛が多く遠くまで飛ぶことができる。そのため他の植物が生えないような場所でも生育できるので、セイウタンポポは都会の街中でも数多くみることができる。		
	問 2	カントウタンポポは、他の植物が数多く生えている場所でも、秋になってそれらが枯れ始めると葉を伸ばし、冬の間成長するので、無くなることはない。		
6	問 1	65 歳以上 30.3% 15~64 歳 58.2% 千葉市の人口ピラミッドは 60 歳前後と 35 歳前後が男女とも 2 つのピークが見られるが、鴨川市のグラフは 60 歳以上の高齢者がとても多いことがわかる。		
	問 2	鴨川市の立場 大山千枚田の環境や景観が守られ、観光資源としてとても有用である。オーナーの立場 田植え等の体験ができ、秋の収穫では新米を食べられる。		
7	問 1	①川の曲がり具合が同じ ②皇居の様子が同様に見える。		
	問 2	二重橋、桜田門など		
	問 3	1500m		
	問 4	農林水産省 経済産業省 などたくさん地図上に見える。		

適性検査 II

作文	省略
----	----